

Feuille d'exercices 6

1 Nombres premiers

Exercice 1. Postulat de Bertrand: on va montrer que pour tout $n \geq 1$, il existe un nombre premier p tel que $n < p \leq 2n$.

(1) Montrer que pour tout $m \geq 1$, on a

$$\prod_{m+1 < p \leq 2m+1} p \leq C_{2m+1}^m \leq 2^{2m}$$

Pour tout x soit $q = 2m + 1$ le plus grand nombre premier tel que $q \leq x$. Montrer que

$$\prod_{p \leq x} p = \prod_{p \leq q} p \leq 4^{2m} \leq 4^{x-1}$$

(2) Montrer que $n!$ s'écrit sous la forme $p^{v_p(n)}m$ avec p ne divisant pas m et

$$v_p(n) = \sum_{k \geq 1} \left\lfloor \frac{n}{p^k} \right\rfloor$$

que l'on appelle la valuation p -adique de n . En déduire que la valuation p -adique de C_{2n}^n est

$$\sum_{k \geq 1} \left(\left\lfloor \frac{2n}{p^k} \right\rfloor - 2 \left\lfloor \frac{n}{p^k} \right\rfloor \right) \leq \max\{r : p^r \leq 2n\}$$

(3) Montrer que pour $p > \sqrt{2n}$, $v_p(C_{2n}^n) \leq 1$ et que pour $\frac{2n}{3} < p \leq n$, $v_p(C_{2n}^n) = 0$.

(4) Pour $n \geq 3$, montrer que $\frac{4^n}{2n} \leq C_{2n}^n$ et en déduire que

$$4^n \leq (2n)^{1+\sqrt{2n}} \prod_{\sqrt{2n} < p \leq \frac{2n}{3}} p \prod_{n < p \leq 2n} p$$

(5) On suppose qu'il n'y a pas de nombre premier p tel que $n < p \leq 2n$. En déduire que $4^{n/3} \leq (2n)^{1+\sqrt{2n}}$. En utilisant la relation $a + 1 < 2^a$, en déduire que $n < 4000$.

(6) Conclure en considérant la suite

$$2, 3, 5, 7, 13, 23, 43, 83, 163, 317, 631, 1259, 2503, 4001$$

(7) Montrer que pour $n \geq 4000$, on a

$$\prod_{n < p \leq 2n} p \geq 2^{n/30}$$

et en déduire qu'il y a au moins $\log_{2n}(2^{n/30}) = \frac{1}{30} \frac{n}{\log_2 n+1}$ nombres premiers dans l'intervalle compris entre n et $2n$.

(8) Pouvez-vous commenter ce dernier résultat?

Exercice 2. Pour tout $x \in \mathbb{R}_+$, on note $\pi(x)$ le nombre de nombres premiers inférieurs ou égaux à x .

(1) Montrer que pour tout $k \in \mathbb{N}$, $\pi(2^{k+1}) \leq 2^k$.

(2) Soit $p \leq 2n$ et r tel que $p^r \leq 2n < p^{r+1}$. Montrer que $v_p(C_{2n}^n) \leq r$ puis que

$$\prod_{n < p \leq 2n} p \mid C_{2n}^n \mid \prod_{p^r \leq 2n < p^{r+1}} p^r$$

En déduire que $n^{\pi(2n) - \pi(n)} < C_{2n}^n \leq (2n)^{\pi(2n)}$.

(3) Prouver que $2^n \leq C_{2n}^n \leq 2^{2n}$ et en déduire en prenant $n = 2^k$ que:

$$k(\pi(2^{k+1}) - \pi(2^k)) < 2^{k+1}$$

et que $2^k \leq (k+1)\pi(2^{k+1})$.

(4) Montrer que pour tout entier k :

$$\frac{1}{2} \frac{2^{k+1}}{k+1} \leq \pi(2^{k+1}) \leq 3 \frac{2^{k+1}}{k+1}$$

(5) Soit $n > 1$ et k tel que $2^k \leq n < 2^{k+1}$. Montrer que

$$\frac{\log 2}{4} \frac{n}{\log n} \leq \pi(n) \leq 6 \log 2 \frac{n}{\log n}$$

(6) Application: montrer que

$$\sum_{p \leq n} \frac{\log p}{p} = \log n + \mathcal{O}(1)$$

2 Courbes elliptiques: hors programme, cette section introduit à un des domaines actuellement les plus actifs de la théorie des nombres

Exercice 1. Une fonction f est dite **elliptique** par rapport à un réseau Λ si c'est une fonction méromorphe sur \mathbb{C} qui est Λ -périodique, i.e.

$$f(z + \omega) = f(z)$$

pour tout $z \in \mathbb{C}$ et tout $\omega \in \Lambda$.

(1) Montrer que f est Λ -périodique si et seulement si $f(z + \omega_1) = f(z) = f(z + \omega_2)$ pour tout $z \in \mathbb{C}$ avec $\Lambda = \mathbb{Z}\omega_1 \oplus \mathbb{Z}\omega_2$. Par ailleurs si f n'a pas de poles, montrer que f est constante.

(2) Soit f une fonction elliptique par rapport à Λ et soit P un parallélogramme fondamental.

(i) On suppose que f n'a pas de poles sur le bord ∂P de P . Montrer alors que la somme des résidus de f dans P est égale à 0.

(ii) On suppose que f n'a ni zéros ni poles sur ∂P . On note a_i les zéros et poles de f dans P et on note m_i la multiplicité de f en a_i . Montrer que

$$\sum_i m_i = 0$$

$$\sum_i m_i a_i \equiv 0 \pmod{\Lambda}$$

(3) On considère la fonction \wp de Weierstrass:

$$\wp_{\Lambda}(x) = x^{-2} + \sum_{\omega \in \Lambda - 0} [(x - \omega)^{-2} - \omega^{-2}]$$

(i) Montrer que pour tout $s > 2$ la somme $\sum_{\omega \in \Lambda - 0} \frac{1}{|\omega|^s}$ converge.

(ii) En déduire que la série qui définit \wp converge uniformément sur tout compact de \mathbb{C} ne contenant pas les points du réseau Λ .

(iii) En considérant $\wp'(x) = -2 \sum_{x \in \Gamma} (x - \omega)^{-3}$, montrer que \wp est elliptique par rapport à Λ .

(4) L'ensemble des fonctions elliptiques par rapport à Λ est un corps sur \mathbb{C} ; on veut montrer que celui-ci est engendré par \wp et \wp' .

(i) Soit f elliptique paire et soit $u \equiv -u \pmod{\Lambda}$ avec $u \not\equiv 0 \pmod{\Lambda}$. Montrer que $g(z) := \wp(z) - \wp(u)$ a un zéro d'ordre 2. En déduire que f a un zéro d'ordre pair en u . Traitez le cas de $u \equiv 0 \pmod{\Lambda}$ en considérant $g = 1/\wp$.

(ii) Soit $(u_i)_{1 \leq i \leq r}$ un famille de points contenant un représentant de chaque classe $(u, -u) \pmod{\Lambda}$ où f a un pôle ou un zéro autre que la classe de Λ . On pose

$$m_i = \text{ord}_{u_i} f \text{ si } 2u_i \not\equiv 0 \pmod{\Lambda}$$

$$m_i = \frac{1}{2} \text{ord}_{u_i} f \text{ si } 2u_i \equiv 0 \pmod{\Lambda}$$

Montrer, en utilisant le théorème de Liouville, que f est égal à une constante fois $\prod_{i=1}^r [\wp(z) - \wp(u_i)]^{m_i}$.

(iii) En déduire que $\mathbb{C}(\wp)$ est le corps des fonctions elliptiques paires par rapport à Λ , puis que $\mathbb{C}(\wp, \wp')$ est le corps des fonctions elliptiques par rapport à Λ .

(5) On veut montrer que les points $(\wp(z), \wp'(z))$ appartiennent à une cubique d'équation $y^2 = 4x^3 - g_2x - g_3$ avec $\Delta = g_2^3 - 27g_3^2 \neq 0$.

(i) Montrer que

$$\wp(z) = \frac{1}{z^2} + \sum_{n=1}^{\infty} (2n+1) s_{2n+2}(\Lambda) z^{2n}$$

$$\text{avec } s_n(\Lambda) = s_n = \sum_{\omega \neq 0} \frac{1}{\omega^n}.$$

(ii) En posant $g_2 = 60s_4$ et $g_3 = 140s_6$, montrer que $(\wp(z), \wp'(z))$ appartiennent à une cubique d'équation $y^2 = 4x^3 - g_2x - g_3$.

(iii) On pose $e_1 = \wp(\omega_1/2)$, $e_2 = \wp(\omega_2)$ et $e_3 = \wp(\frac{\omega_1 + \omega_2}{2})$. Montrer que modulo Γ , \wp' a trois racines simples à savoir $\omega_1/2$, $\omega_2/2$ et $(\omega_1 + \omega_2)/2$. En déduire que

$$(\wp')^2 = 4(\wp - e_1)(\wp - e_2)(\wp - e_3)$$

$$\text{avec } \Delta = g_2^3 - 27g_3^2 \neq 0.$$

(iv) En déduire que

$$x = \frac{1}{2} \int_{\infty}^{\wp(x)} [(y - e_1)(y - e_2)(y - e_3)]^{-1/2} dy \pmod{\Gamma}$$

$$\text{avec } \omega_1 = \int_{\infty}^{e_1} [(y - e_1)(y - e_2)(y - e_3)]^{-1/2} dy \text{ et } \omega_2 = \int_{e_1}^{e_2} [(y - e_1)(y - e_2)(y - e_3)]^{-1/2} dy.$$

(v) Montrer que l'équation $y^2 = x^3 - x$ correspond au réseau \mathbb{Z}^2 en utilisant l'égalité

$$\omega_1 = \int_0^1 (x - x^2)^{-1/2} dx = \int_1^{\infty} (x^3 - x)^{-1/2} dx = \omega_2/i$$

que l'on montrer via le changement de variable $x \mapsto 1/x$.

Exercice 2. Loi d'addition Etant donné des nombres complexes g_2, g_3 on peut se demander s'il existe un réseau pour lequel ce sont les invariants associés comme dans l'exercice précédent. La réponse est oui. On considère la courbe projective A d'équation

$$uy^2 = 4x^3 - g_2xu^2 - g_3u^3$$

de point infini $(0, 0, 1)$ qui est l'image des points de Λ par l'application $z \mapsto (1, \wp(z), \wp'(z))$.

(1) Montrer que l'application ci-dessus induit une bijection $\mathbb{C}/\Lambda - 0 \longrightarrow A_{\mathbb{C}} - \{\infty\}$, où $A_{\mathbb{C}}$ désigne les points complexes de la cubique A .

(2) L'ensemble \mathbb{C}/Λ est naturellement muni d'une structure de groupe; on veut exprimer celle-ci sur $A_{\mathbb{C}}$. Nous allons montrer que si $P_1 = (1, x_1, y_1)$ et $P_2 = (1, x_2, y_2)$ alors $P_3 = P_1 + P_2 = (1, x_3, y_3)$ s'exprime avec des fonctions rationnelles en x_1, x_2, y_1, y_2 . Géométriquement on procède comme dans le dessin suivant: la droite (P_1P_2) intersecte $A_{\mathbb{C}}$ en un troisième point $Q_3 = -P_3$ et P_3 est le symétrique de Q_3 par rapport à l'axe des x .

(i) Soient $u_1, u_2 \in \mathbb{C} - \Lambda$ et supposons $u_1 \not\equiv u_2 \pmod{\Lambda}$. Soient $a, b \in \mathbb{C}$ tels que

$$\wp'(u_1) = a\wp(u_1) + b$$

$$\wp'(u_2) = a\wp(u_2) + b$$

Montrer que $g(z) = \wp'(z) - a\wp(z) - b$ a 3 zéros comptés avec leur multiplicités. A quelle condition n'a-t-ont que 2 zéros distincts?

(ii) On suppose que g a 3 zéros distincts. En notant u_3 le troisième, montrer que $u_3 \equiv -(u_1 + u_2) \pmod{\Lambda}$. En déduire que

$$x_3 = -x_1 - x_2 + \frac{1}{4} \left(\frac{y_1 - y_2}{x_2 - x_1} \right)^2.$$

(iii) Pour $u_1 \equiv u_2 \pmod{\Lambda}$ montrer que

$$\wp(2u) = -2\wp(u) + \frac{1}{4} \left(\frac{\wp''(u)}{\wp'(u)} \right)^2.$$

Exercice 3. Une introduction à la géométrie algébrique

(1) En vous appuyant sur la classification des coniques projectives de $\mathbb{P}_{\mathbb{R}}^2$, montrez qu'une conique non dégénérée C non vide de $\mathbb{P}_{\mathbb{R}}^2$ est projectivement équivalente à la courbe $XZ = Y^2$.

Montrez que cette courbe admet un paramétrage par $\mathbb{P}_{\mathbb{R}}^1$ via l'application qui à (U, V) associe (U^2, UV, V^2) . Quelle est l'application inverse?

(2) **Cas simples du théorème de Bézout**

(i) Soit

$$F(U, V) = a_d U^d + a_{d-1} U^{d-1} V + \dots + a_0 V^d$$

un polynôme homogène non nul de degré d en 2 variables à coefficients dans un corps k . On lui associe le polynôme en une variable $f(u) = F(u, 1)$ et on définit la multiplicité d'un zéro (u, v) de F dans \mathbb{P}_k^1 comme la multiplicité de u/v dans f si $v \neq 0$ et sinon en $(1, 0)$ comme l'entier $d - \deg f$.

Montrer que F a au plus d zéros dans \mathbb{P}_k^1 comptés avec multiplicités.

(ii) Soit $L \subset \mathbb{P}_k^2$ une droite et $D \subset \mathbb{P}_k^2$ une courbe définie par une équation $G(X, Y, Z) = 0$ où G est un polynôme homogène de degré d en X, Y, Z . On suppose $L \not\subset D$. Montrer que le cardinal de $L \cap D$ est inférieur ou égal à d .

(iii) Même hypothèse qu'en (ii) en remplaçant L par une conique non dégénérée C : montrer que le cardinal de $C \cap D$ est inférieur ou égal à $2d$.

Remarque: On peut définir une notion de multiplicité d'une intersection en un point de sorte que les résultats précédents soient vrais en comptant avec multiplicité. En outre si k est algébriquement clos, on a alors égalité. Le théorème de Bézout concerne des courbes C et D de degré n et m : leur intersection est alors nm , en comptant les multiplicités et en travaillant sur un corps algébriquement clos.

(3) **L'espace des coniques** Dans la suite on note $S_d(k)$ l'espace des polynômes homogènes de degré d à coefficients dans k , en les variables X, Y, Z . Etant donné des points P_1, \dots, P_r de \mathbb{P}_k^2 , on notera $S_d(P_1, \dots, P_r)$ le sous-ensemble de $S_d(k)$ constitué des éléments F qui s'annulent sur les P_i .

- (i) Soient $P_1, \dots, P_5 \in \mathbb{P}_{\mathbb{R}}^2$ des points distincts tels que 4 quelconques ne sont pas colinéaires. Montrer qu'il existe au plus une conique passant par ces 5 points.
- (ii) Soit $n \geq 5$ et soient P_1, \dots, P_n des points tels que 4 quelconques ne sont jamais colinéaires. Montrer alors que l'ensemble des formes quadratiques qui s'annulent sur ces points est de dimension $6 - n$.
- (iii) **Un pinceau de coniques** est une famille de la forme

$$C_{\lambda, \mu} := (\lambda Q_1 + \mu Q_2 = 0)$$

où Q_1 et Q_2 sont des coniques. On suppose que le pinceau possède au moins une conique dégénérée, montrer alors qu'elle en possède au plus 3. En outre si $k = \mathbb{R}$, montrer que le pinceau admet toujours une conique dégénérée.

(4) **Cubiques: exemples**

- (i) On considère la cubique de \mathbb{R}^2 définie par l'équation $y^2 = X^3 + x^2$. Donnez en une paramétrisation.
- (ii) Même question avec la cubique $y^2 = x^3$.
- (iii) Soit k un corps de caractéristique différente de 2 et soit $\lambda \in k$ avec $\lambda \neq 0, 1$. Montrer que pour si $f, g \in k(t)$ sont tels que $f^2 = g(g-1)(g-\lambda)$ alors $f, g \in k$. Quelle interprétation en donnez-vous sur la cubique $y^2 = x(x-1)(x-\lambda)$?

(5) **Cas simples du Nullstellensatz:** soit k un corps infini et soit $F \in S_d(k)$ un polynôme homogène de degré d à coefficients dans k en les variables X, Y, Z .

- (i) Soit $L \subset \mathbb{P}_k^2$ une droite. Montrer que si F s'annule sur L alors $F = HF'$ où H est une équation de L et $F' \in S_{d-1}(k)$. En déduire que si P_1, \dots, P_n sont des points de \mathbb{P}_k^2 tels que $P_1, \dots, P_a \in L$ et $P_{a+1}, \dots, P_n \notin L$ avec $a > d$, alors

$$S_d(P_1, \dots, P_n) = HS_{d-1}(P_{a+1}, \dots, P_n)$$

- (ii) Soit $C \subset \mathbb{P}_k^2$, une conique non dégénérée et non vide. Montrer que si F s'annule sur C alors $F = QF'$ où Q est une équation de C et $F' \in S_{d-2}(k)$. En déduire que si P_1, \dots, P_n sont des points de \mathbb{P}_k^2 tels que $P_1, \dots, P_a \in C$ et $P_{a+1}, \dots, P_n \notin C$ avec $a > 2d$, alors

$$S_d(P_1, \dots, P_n) = QS_{d-2}(P_{a+1}, \dots, P_n)$$

- (iii) Soient $P_1, \dots, P_8 \in \mathbb{P}_k^2$ des points distincts tels que 4 quelconques ne sont pas colinéaires et que 7 quelconques ne sont pas sur une conique non dégénérée. Montrer alors que $\dim S_3(P_1, \dots, P_8) = 2$.

Indication: on traitera séparément le cas où 3 points quelconques ne sont pas colinéaires et 6 quelconques ne sont pas sur une conique non dégénérée.

- (iv) Soient C_1, C_2 deux coniques dont l'intersection est 9 points distincts. Montrer que toute conique D qui passe par 8 d'entre eux passe aussi par le neuvième.

(6) **Loi d'addition sur une conique:** soit $k \subset \mathbb{C}$ et $C \subset \mathbb{P}_k^2$ une cubique d'équation $F = 0$. On suppose que F est irréductible et que pour tout point $P \in C$, il existe une unique droite $L \subset \mathbb{P}_k^2$ telle que P est un zéro multiple de $F|_L$. On fixe un point $O \in C$ et on considère la construction suivante:

Construction: (a) Soit $A \in C$ et soit \bar{A} le troisième point d'intersection de C avec la droite OA .

(b) Pour $A, B \in C$ soit R le troisième point d'intersection de AB avec C et on définit $A + B$ comme étant égal à \bar{R} .

On veut montrer que l'on définit ainsi une loi de groupe abélien sur C avec O comme élément neutre.

- (i) Montrer que la construction précédente est bien définie.
- (ii) Montrer que O est bien un élément neutre et que la loi est commutative.

(iii) Montrer que l'inverse de A est le troisième point d'intersection de $\bar{O}A$ avec C .

(iv) **Associativité:** soient A, B, C trois points de C ; la construction de $(A+B)+C = \bar{S}$ utilise les 4 droite (cf. la figure (1)):

$$L_1 = ABR, \quad L_2 = ROR\bar{R}, \quad L_3 = C\bar{R}S, \quad L_4 = SO\bar{S}$$

La construction de $(B+C)+A = \bar{S}'$ utilise les 4 droites

$$M_1 = BCQ, \quad M_2 = QO\bar{Q}, \quad M_3 = A\bar{Q}S', \quad M_4 = S'O\bar{S}'$$

Il s'agit de prouver $\bar{S} = \bar{S}'$ ou de manière équivalente $S = S'$. On considère les deux cubiques

$$D_1 = L_1 + M_2 + L_3 \quad D_2 = M_1 + L_2 + M_3$$

de sorte que

$$C \cap D_1 = \{A, B, C, O, R, \bar{R}, Q, \bar{Q}, S\} \quad C \cap D_2 = \{A, B, C, O, R, \bar{R}, Q, \bar{Q}, S'\}$$

Conclure en supposant les 9 points $\{A, B, C, O, R, \bar{R}, Q, \bar{Q}, S\}$ distincts.

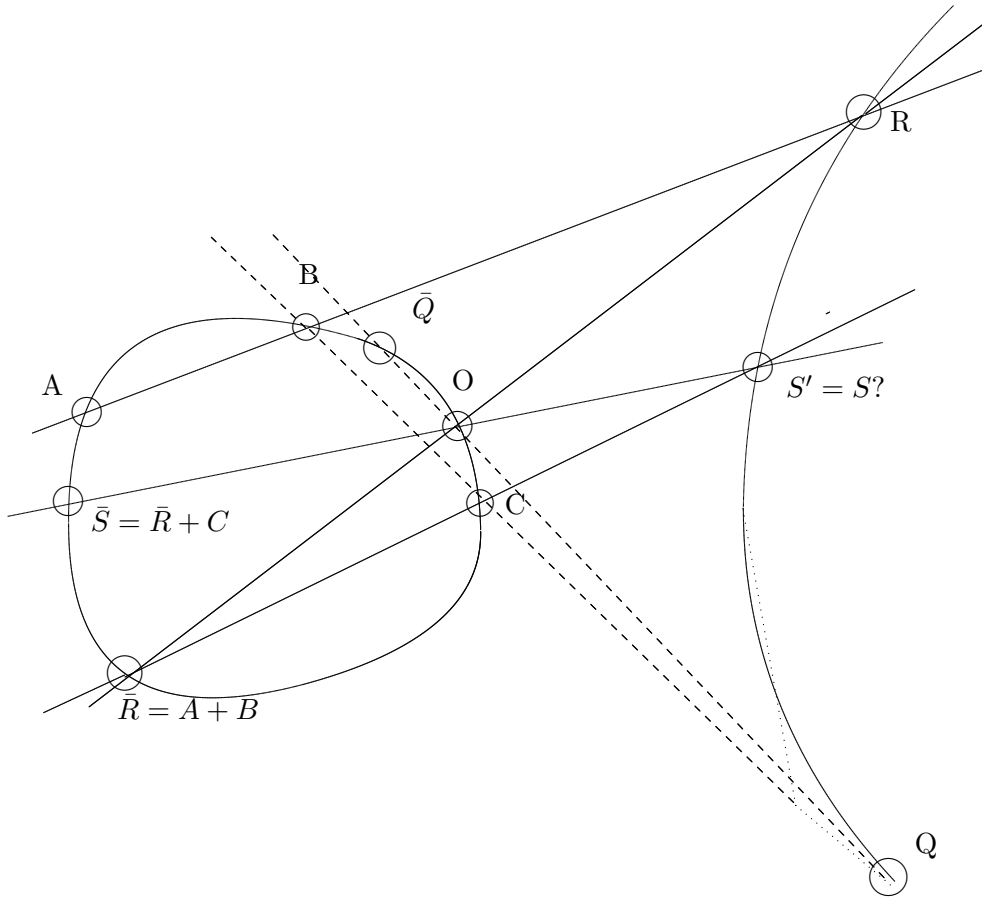


Figure 1: Loi d'addition sur une courbe elliptique

(v) Conclure dans le cas général en utilisant un argument de continuité et en utilisant l'hypothèse $k \subset \mathbb{C}$.
Remarque: On peut montrer le cas général pour tout k avec une bonne notion de multiplicité, ou bien en utilisant la topologie de Zariski.

(vi) Soit $C \subset \mathbb{P}_k^2$ une cubique possédant un point d'inflexion P . Montrer qu'un changement de coordonnées dans \mathbb{P}_k^2 permet de se ramener à une équation de la forme **normale**, i.e.

$$Y^2Z = X^3 + aX^2Z + bXZ^2 + cZ^3$$

Indication: choisissez les coordonnées telles que $P = (0, 1, 0)$ et la droite d'inflexion $Z = 0$.

(vii) **Loi de groupe simplifiée:** on considère une cubique sous forme normale et on prend $O = (0, 1, 0)$ comme élément neutre. Montrer que l'on a les propriétés suivantes et retrouver la loi de groupe donnée par les fonctions de Weierstrass.

(a) $C = \{O\} \cup C_0$, où $C_0 : (y^2 = x^3 + ax + b)$ est une courbe affine;

(b) les droites passant par O sont les droites projectives $X = \lambda Z$ et donc les droites affines $x = \lambda$;

(c) $-P = \bar{P}$.

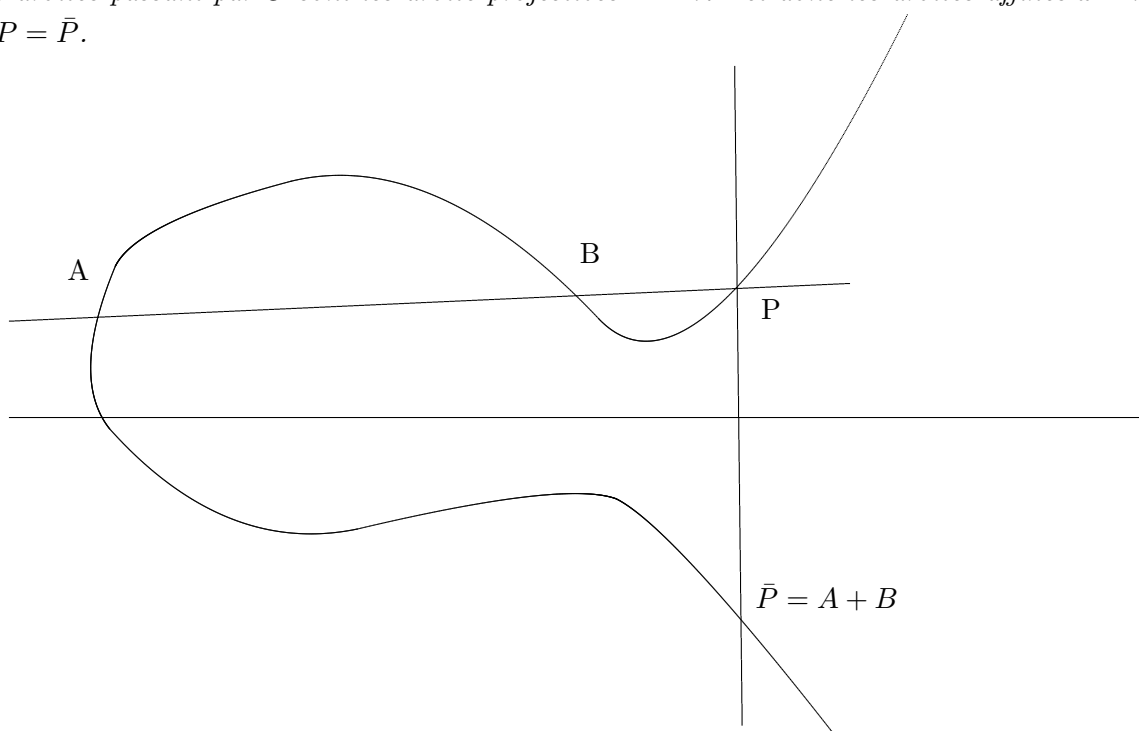


Figure 2: Loi d'addition simplifiée

Remarque: Essayez de prouver le théorème de l'hexagone de Pascal: Soit un hexagone $ABCDEF$ dans \mathbb{P}_k^2 dont les paires de cotés opposés se rencontrent aux points P, Q, R . On suppose les 9 points et les 6 droites distinctes. Montrer alors que

$$ABCDEF \text{ sont sur une même conique non dégénérée} \Leftrightarrow PQR \text{ sont colinéaires}$$

Exercice 4. Méthode de factorisation de Lenstra:

- On choisit une courbe elliptique au hasard à coefficients dans \mathbb{Z} avec un point P sur celle-ci. On considère alors la loi de groupe sur cette courbe modulo n .
- On calcule $eP = (u, x, y)$ dans ce groupe où e est un produit de petits nombres premiers pris à de petites puissances comme dans la méthode $p - 1$ de Pollard.
- On calcule le pgcd de u (ou du dénominateur de x) avec n .
- Si on trouve 1, alors on essaye avec une nouvelle courbe elliptique et un autre point.

Commentez cet algorithme et expliquez en quoi il est plus souple que celui de Pollard.

Remarque: L'ordre d'une courbe elliptique prise au hasard sur $\mathbb{Z}/p\mathbb{Z}$ varie de manière aléatoire entre $p + 1 - 2\sqrt{p}$ et $p + 1 + 2\sqrt{p}$.

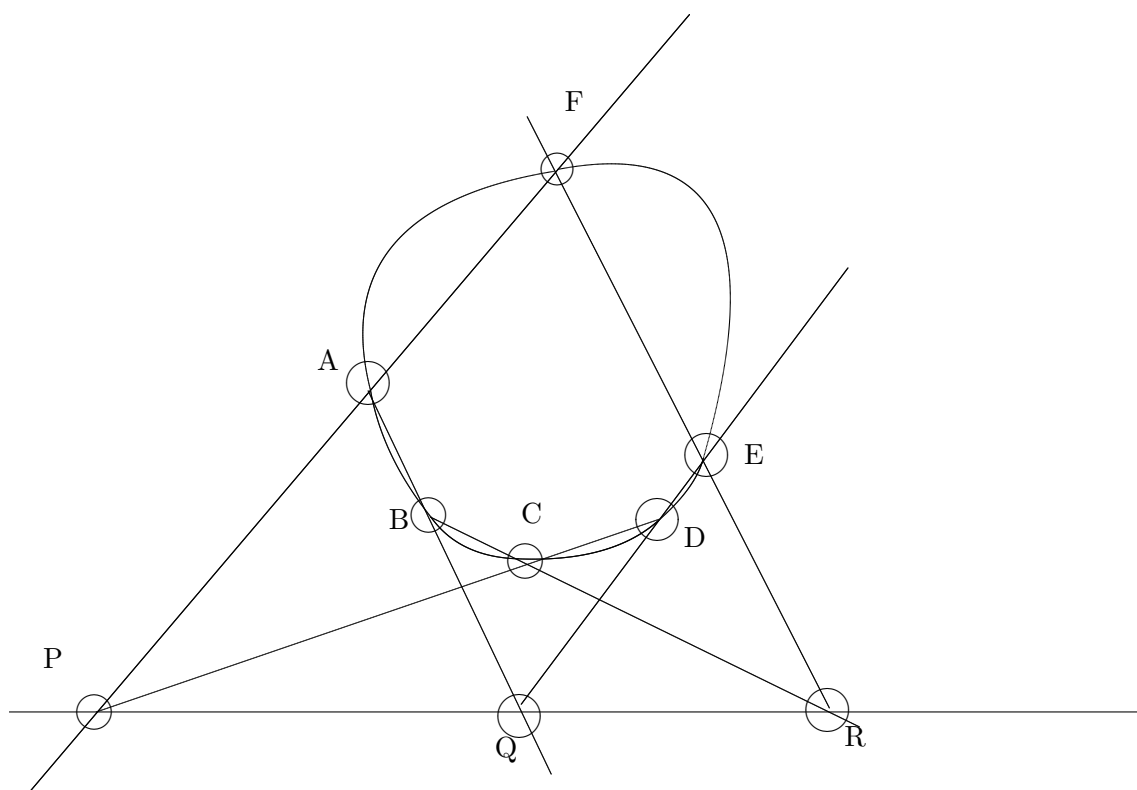


Figure 3: L'hexagone de Pascal