

Méthodes Numériques II

Sup'Galilée, Ingénieurs Energétique, 1ère année (S6)

François Cuvelier

Laboratoire d'Analyse Géométrie et Applications
Institut Galilée
Université Paris XIII.

04/02/2024

Plan du cours

- Chapitre I : Algorithmique numérique
- Chapitre II : Dérivation numérique**
- Chapitre III : Résolution numérique des E.D.O.
- Chapitre IV : Résolution numérique des E.D.P.

Plan

2 Applications numériques

1 Rappels ou pas

♥ Definition 1.1

Soit g une fonction et $q \in \mathbb{N}$. On dit que g **se comporte comme un grand O de h^q** quand h tend vers 0 si et seulement si il existe $H > 0$ et $C > 0$ tel que

$$\forall h \in]-H, H[, |g(h)| \leq C|h|^q.$$

On note alors $g(h) = \mathcal{O}(h^q)$.

On peut noter entre autres

- $\forall \alpha \in \mathbb{R}^*$,

$$g(h) = \mathcal{O}(h^q) \Rightarrow \alpha g(h) = \mathcal{O}(h^q),$$

- $\forall p \in \mathbb{Z}, p + q \geq 0$,

$$g(h) = \mathcal{O}(h^q) \Rightarrow h^p g(h) = \mathcal{O}(h^{p+q}).$$

- $\forall (p, q) \in \mathbb{N}^2, \forall (\alpha_1, \alpha_2) \in \mathbb{R}^* \times \mathbb{R}^*$,

$$g_1(h) = \mathcal{O}(h^p), g_2(h) = \mathcal{O}(h^q) \Rightarrow \alpha_1 g_1(h) + \alpha_2 g_2(h) = \mathcal{O}(h^{\min(p,q)}).$$

Proposition 1.2: Développement de Taylor

Soit f une application $f : [a, b] \rightarrow \mathbb{R}$. Si $f \in \mathcal{C}^{r+1}([a, b])$ alors le **développement de Taylor à l'ordre r** s'écrit

- $\forall (x, y) \in [a, b]^2$ il existe un $\xi \in]\min(x, y), \max(x, y)[$ tel que

$$f(x) = f(y) + \sum_{k=1}^r \frac{f^{(k)}(y)}{k!} (x-y)^k + \frac{f^{(r+1)}(\xi)}{(r+1)!} (x-y)^{r+1} \quad (1)$$

- $\forall t \in [a, b], \forall h \in \mathbb{R}^*$ vérifiant $(t+h) \in [a, b]$, il existe $\xi \in]\min(t, t+h), \max(t, t+h)[$ tel que

$$f(t+h) = f(t) + \sum_{k=1}^r \frac{h^k}{k!} f^{(k)}(t) + \frac{h^{r+1}}{(r+1)!} f^{(r+1)}(\xi) \quad (2)$$

ou encore, $\forall t \in [a, b], \forall h \in \mathbb{R}^*$ vérifiant $(t+h) \in [a, b]$,

$$f(t+h) = f(t) + \sum_{k=1}^r \frac{h^k}{k!} f^{(k)}(t) + \mathcal{O}(h^{r+1}). \quad (3)$$

Exercice

Soit $\varphi : [a, b] \rightarrow \mathbb{R}$ une fonction.

- Q.1** Montrer que si $\varphi \in \mathcal{C}^2([a, b]; \mathbb{R})$ alors $\forall x \in [a, b], \forall h > 0$ tel que $(x+h) \in [a, b]$, on a

$$\frac{d\varphi}{dx}(x) = \frac{\varphi(x+h) - \varphi(x)}{h} + \mathcal{O}(h) \quad (4)$$

- Q.2** Montrer que si $\varphi \in \mathcal{C}^2([a, b]; \mathbb{R})$ alors $\forall x \in [a, b], \forall h > 0$ tel que $(x-h) \in [a, b]$, on a

$$\frac{d\varphi}{dx}(x) = \frac{\varphi(x) - \varphi(x-h)}{h} + \mathcal{O}(h) \quad (5)$$

- Q.3** Montrer que si $\varphi \in \mathcal{C}^3([a, b]; \mathbb{R})$ alors $\forall x \in [a, b], \forall h > 0$ tel que $(x+h) \in [a, b]$ et $(x-h) \in [a, b]$, on a

$$\frac{d\varphi}{dx}(x) = \frac{\varphi(x+h) - \varphi(x-h)}{2h} + \mathcal{O}(h^2) \quad (6)$$

- Q.4** Montrer que si $\varphi \in \mathcal{C}^4([a, b]; \mathbb{R})$ alors $\forall x \in [a, b], \forall h > 0$ tel que $(x+h) \in [a, b]$ et $(x-h) \in [a, b]$, on a

$$\frac{d^2\varphi}{dx^2}(x) = \frac{\varphi(x+h) - 2\varphi(x) + \varphi(x-h)}{h^2} + \mathcal{O}(h^2) \quad (7)$$

Definition 1.3

Soit $\varphi : \mathbb{R} \rightarrow \mathbb{R}$ une fonction suffisamment régulière. Soient $x \in \mathbb{R}, h \in \mathbb{R}^{+*}, n \in \mathbb{N}^*$ et $p \in \mathbb{N}^*$. On dit que $\square_h(x)$ est une **approximation d'ordre p** de $\frac{d^n \varphi}{dx^n}(x)$ si

$$\frac{d^n \varphi}{dx^n}(x) - \square_h(x) = \mathcal{O}(h^p)$$

On a donc établi:

Soient $\varphi : \mathbb{R} \rightarrow \mathbb{R}$ une fonction suffisamment régulière, $x \in \mathbb{R}$ et $h \in \mathbb{R}^{+*}$.

- $\frac{\varphi(x+h) - \varphi(x)}{h}$ et $\frac{\varphi(x) - \varphi(x-h)}{h}$ sont des approximations d'ordre 1 de $\frac{d\varphi}{dx}(x)$,
- $\frac{\varphi(x+h) - \varphi(x-h)}{2h}$ est une approximation d'ordre 2 de $\frac{d\varphi}{dx}(x)$,
- $\frac{\varphi(x+h) - 2\varphi(x) + \varphi(x-h)}{h^2}$, est une approximation d'ordre 2 de $\frac{d^2\varphi}{dx^2}(x)$.

Existe-t'il d'autres approximations d'ordre 2 de $\frac{d\varphi}{dx}(x)$?

TD

Exercice

Soit $\varphi : \mathbb{R} \rightarrow \mathbb{R}$ une fonction suffisamment régulière, $x \in \mathbb{R}$ et $h \in \mathbb{R}^{+*}$.

- Q.1** Montrer que

$$\frac{d\varphi}{dx}(x) = \frac{-3\varphi(x) + 4\varphi(x+h) - \varphi(x+2h)}{2h} + \mathcal{O}(h^2) \quad (8)$$

- Q.2** Montrer que

$$\frac{d\varphi}{dx}(x) = \frac{3\varphi(x) - 4\varphi(x-h) + \varphi(x-2h)}{2h} + \mathcal{O}(h^2) \quad (9)$$

Ces résultats impliquent:

$$\frac{-3\varphi(x) + 4\varphi(x+h) - \varphi(x+2h)}{2h} \quad \text{et} \quad \frac{3\varphi(x) - 4\varphi(x-h) + \varphi(x-2h)}{2h}$$

sont des approximations d'ordre 2 de $\frac{d\varphi}{dx}(x)$.

Plan

- 1 Rappels ou pas
- 2 Applications numériques

Applications numériques 04/02/2024 9 / 17

♥ Definition 2.1

Soit $N \in \mathbb{N}^*$. On appelle **discrétisation régulière de $[a, b]$ à N pas ou $(N + 1)$ points** l'ensemble des points $a + nh$, $n \in \llbracket 0, N \rrbracket$ où le pas h est donné par $h = (b - a)/N$.

Soit $y : [a, b] \rightarrow \mathbb{R}$ une fonction suffisamment régulière. On note $t^n = a + nh$, $n \in \llbracket 0, N \rrbracket$, une **discrétisation régulière de $[a, b]$** . On appelle

- **différence finie progressive** l'approximation de $y'(t^n)$ suivante:

$$\frac{y(t^{n+1}) - y(t^n)}{h}, \quad \forall n \in \llbracket 0, N - 1 \rrbracket \quad (10)$$
- **différence finie rétrograde** l'approximation de $y'(t^n)$ suivante:

$$\frac{y(t^n) - y(t^{n-1})}{h}, \quad \forall n \in \llbracket 1, N \rrbracket \quad (11)$$
- **différence finie centrée** l'approximation de $y'(t^n)$ suivante:

$$\frac{y(t^{n+1}) - y(t^{n-1})}{2h}, \quad \forall n \in \llbracket 1, N - 1 \rrbracket \quad (12)$$

Applications numériques 04/02/2024 10 / 17

On a démontré le lemme suivant

📖 Lemme 2.2

Si $y \in \mathcal{C}^2([a, b])$ alors

$$y'(t^n) = \frac{y(t^{n+1}) - y(t^n)}{h} + \mathcal{O}(h), \quad \forall n \in \llbracket 0, N - 1 \rrbracket, \quad (13)$$

$$y'(t^n) = \frac{y(t^n) - y(t^{n-1})}{h} + \mathcal{O}(h), \quad \forall n \in \llbracket 1, N \rrbracket. \quad (14)$$

Si $y \in \mathcal{C}^3([a, b])$ alors

$$y'(t^n) = \frac{y(t^{n+1}) - y(t^{n-1})}{2h} + \mathcal{O}(h^2), \quad \forall n \in \llbracket 1, N - 1 \rrbracket. \quad (15)$$

Applications numériques 04/02/2024 11 / 17

TD

📖 Exercice

Soit $f \in \mathcal{C}^3([a, b]; \mathbb{R})$. On note t^n , $n \in \llbracket 0, N \rrbracket$, une discrétisation **régulière** de $[a, b]$ de pas h . On note $\mathbf{F} \in \mathbb{R}^{N+1}$ le vecteur défini par $F_{n+1} = f(t^n)$, $\forall n \in \llbracket 0, N \rrbracket$.

Q.1

- Déterminer en fonction de h et \mathbf{F} , un vecteur $\mathbf{V} \in \mathbb{R}^{N+1}$ vérifiant

$$V_{n+1} = f'(t^n) + \mathcal{O}(h), \quad \forall n \in \llbracket 0, N \rrbracket.$$
- Ecrire une fonction algorithmique `Derive1Order1` permettant, à partir du vecteur \mathbf{F} et de h , de calculer le vecteur \mathbf{V} précédent.

Q.2

- Connaissant uniquement h et le vecteur \mathbf{F} , déterminer un vecteur $\mathbf{W} \in \mathbb{R}^{N+1}$ vérifiant

$$W_n = f'(t^n) + \mathcal{O}(h^2), \quad \forall n \in \llbracket 0, N \rrbracket$$
- Ecrire une fonction algorithmique `Derive1Order2` permettant, à partir du vecteur \mathbf{F} et de h , de calculer le vecteur \mathbf{W} précédent.

Applications numériques 04/02/2024 12 / 17

Application

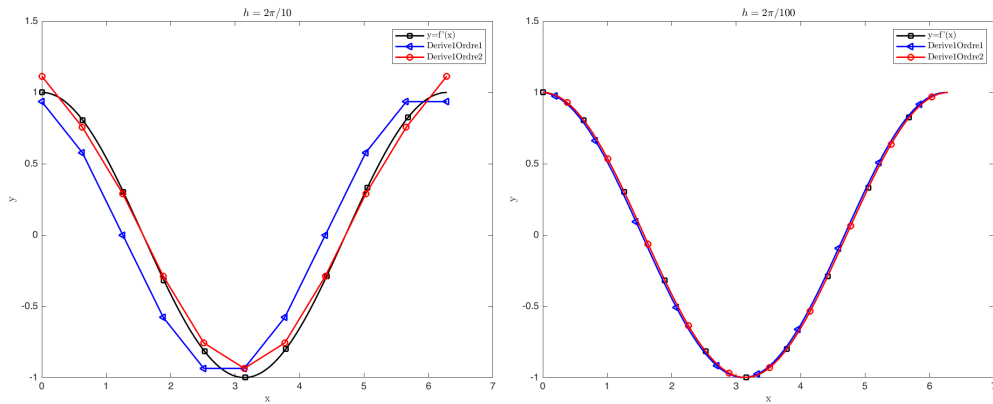


Figure: Représentation des dérivées numériques avec $f(x) = \sin(x)$, $a = 0$, $b = 2\pi$. A gauche $h = \frac{2\pi}{10}$, à droite $h = \frac{2\pi}{100}$.

Application

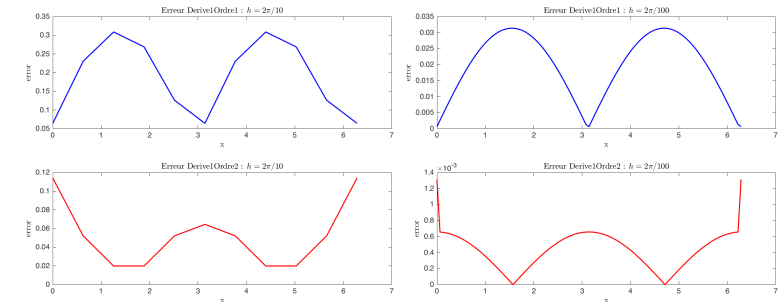


Figure: Erreur des dérivées numériques numériques avec $f(x) := \sin(x)$, $a = 0$, $b = 2\pi$. A gauche $h = \frac{2\pi}{10}$, à droite $h = \frac{2\pi}{100}$.

- Dérivée première d'ordre 1 : h a été divisé par 10 \implies l'erreur, $\mathcal{O}(h)$, divisée par 10.
- Dérivée première d'ordre 2 : h a été divisé par 10 \implies l'erreur, $\mathcal{O}(h^2)$, divisée par 100.

TD



Exercice

On suppose écrites les fonctions Matlab/Octave `Derive1Order1` et `Derive1Order2` correspondant aux fonctions algorithmiques de l'exercice 12. Leurs syntaxes sont les suivantes:

$$V = \text{Derive1Ordre1}(h, F) \text{ et } W = \text{Derive1Ordre2}(h, F)$$

Q.1 Ecrire un programme Matlab/Octave permettant de reproduire les figures précédentes avec $f(x) = \sin(x)$, $a = 0$, $b = 2\pi$, $N = 100$.

Application

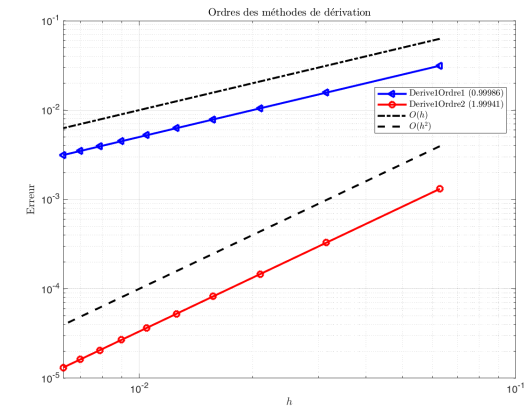


Figure: Dérivation numérique : mise en évidence de l'ordre des méthodes
Figure en échelle logarithmique : intérêt de monter en ordre.

**Exercice**

On suppose écrites les fonctions Matlab/Octave [Derive1Order1](#) et [Derive1Order2](#) correspondant aux fonctions algorithmiques de l'exercice 12. Leurs syntaxes sont les suivantes:

$$V = \text{Derive1Ordre1}(h, F) \quad \text{et} \quad W = \text{Derive1Ordre2}(h, F)$$

Q.1

- 1 *Ecrire un programme Matlab/Octave permettant de calculer l'ensemble des données nécessaires à la représentation graphique de l'ordre des deux méthodes (voir figure).*
- 2 *A l'aide de ces données, calculer numériquement l'ordre des deux méthodes.*

Les commandes Matlab/Octave permettant de représenter des données en échelles logarithmique sont [loglog](#), [semilogx](#) et [semilogy](#). Elles s'utilisent globalement comme la fonction [plot](#).

- 2 *Ajouter au programme précédent le code permettant de reproduire la figure.*